





Adı Soyadı :

Numarası :

Konu: Uzunluk Ölçme

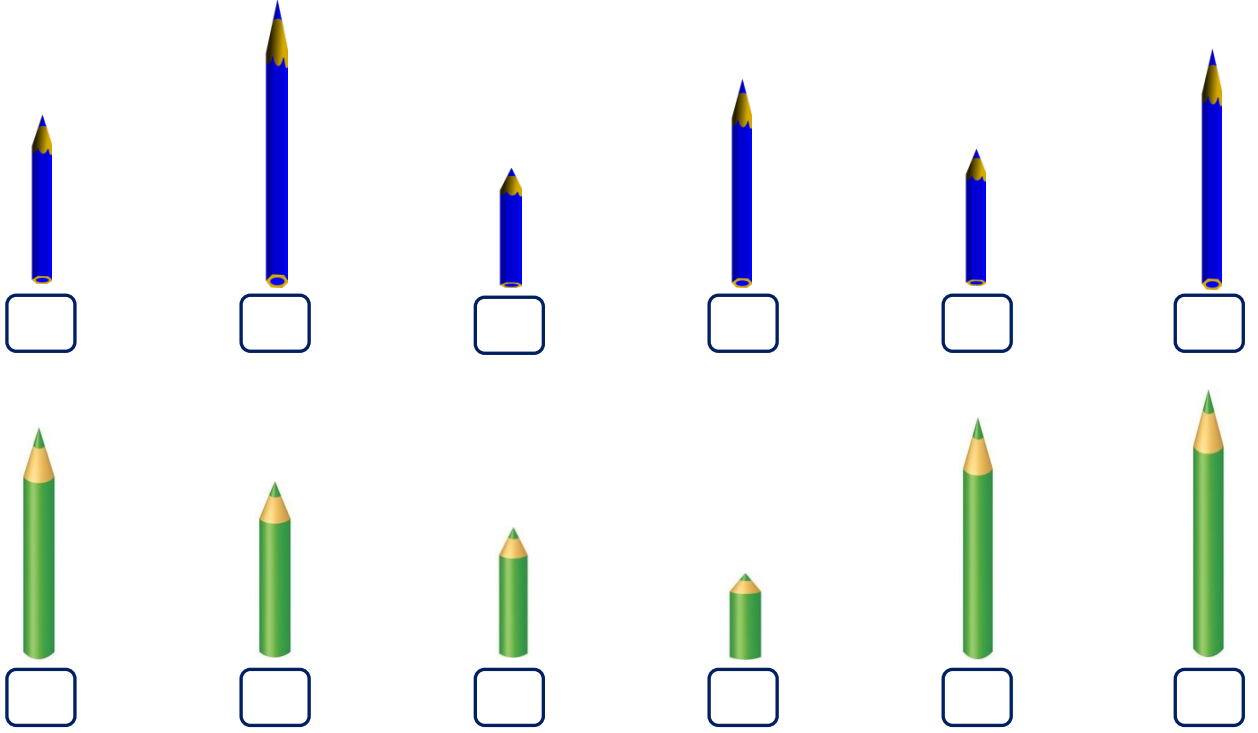
Aşağıdaki varlıklardan uzun olanları
işaretleyiniz.

☐☐☐☐☐☐☐☐☐☐☐☐

Aşağıdaki varlıklardan kısa olanları
işaretleyiniz.

☐☐☐☐☐☐☐☐☐☐☐☐

Aşağıdaki kalemleri uzundan kısaya doğru sıralayınız. Resimlerin altına kaçınıcı sırada olduklarını sıra sayılarını kullanarak yazınız.



Baştaki kalem hangi sırada olmalıdır? Uygun yeri okla işaretleyelim.

